

International Reasoning and Aptitude Olympiad






Presented by:
**SILVER
SZONE**
FOUNDATION
NEW DELHI • INDIA

Silverzone Foundation


For supremacy in Mathematics
www.silverzone.org


CLASS 5 SAMPLE QUESTIONS

The Actual Question Paper Contains 30 Questions. The Duration of the Test Paper is 40 Minutes.

- 



- (A) 

- (B) 

- (C)
- 

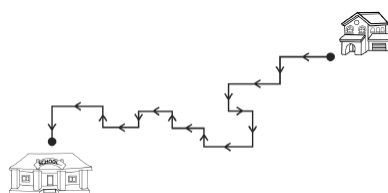
- (D) 

- (A) Mother (B) Sister
(C) Niece (D) Daughter

- (A) Mohit (B) Prabhu
(C) Prakash (D) Anuj

- (A) 23491735842 (B) 38497353781
(C) 29187353248 (D) 28913735842

5. Ankita goes to school from home along the path indicated below. How many times does she turn right?



- (A) 7 (B) 8 (C) 9 (D) 10

- Find the missing term.
 $7 : 47 :: 11 : ?$
 (A) 119 (B) 121 (C) 123 (D) 1203

- (A) 13th (B) 14th (C) 15th (D) 16th

-

- (A) 343 (B) 243 (C) 231 (D) 237


-


- (A) 6 (B) 8 (C) 7 (D) 9


-

Y
Mirror

- (A) 

- (B)
- 

- (C) 

- (D) 

1. (D) 2. (C) 3. (C) 4. (D) 5. (A) 6. (A) 7. (B) 8. (D) 9. (C) 10. (D)